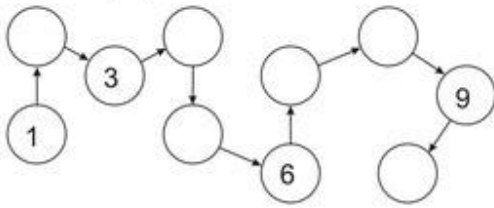


Закрепление материала.

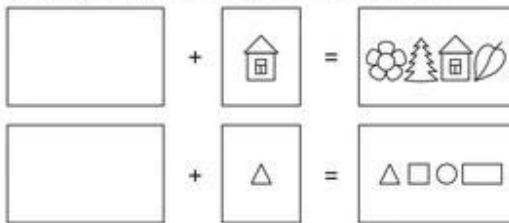
Заполни ряд:



Реши примеры:

$$\begin{array}{lll} 1+1= & 4+1= & 7+1= \\ 2+1= & 5+1= & 8+1= \\ 3+1= & 6+1= & 9+1= \end{array}$$


Дорисуй предметы в пустых клеточках.



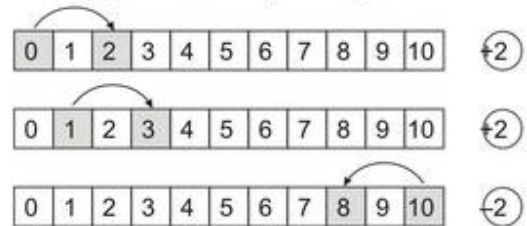
Реши примеры:

$$10 - 8 = \square \quad 9 - 8 = \square$$

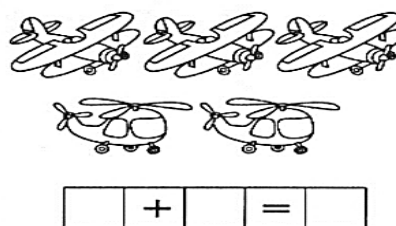
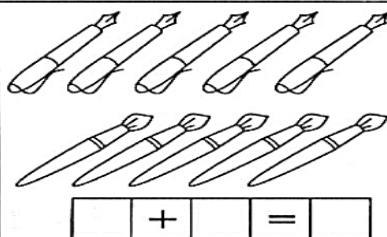

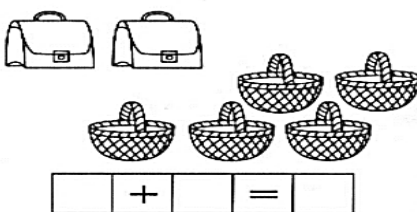
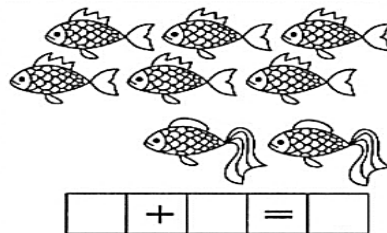
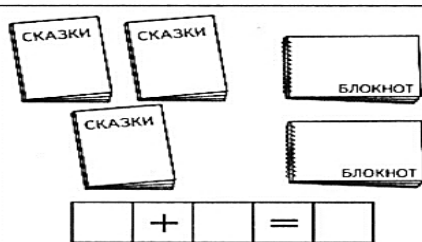
Покажи при помощи цветных карандашей решение примеров:



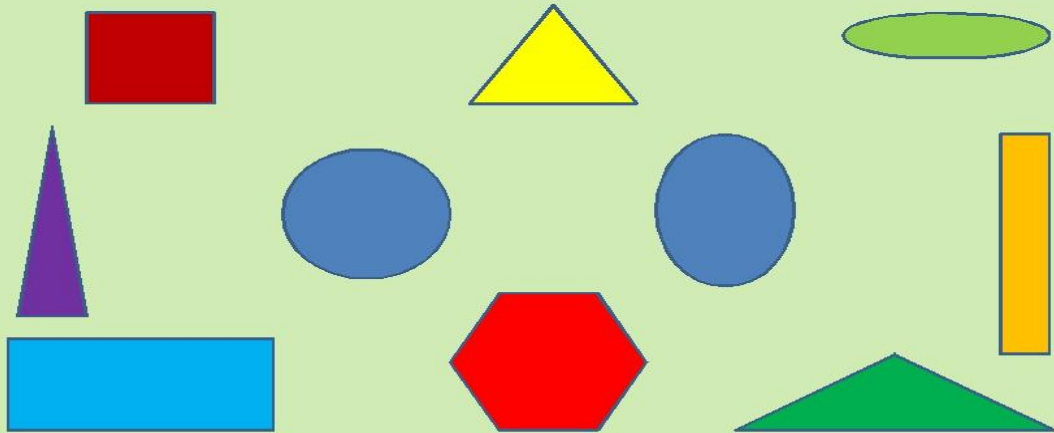
Заштрихуй каждый второй квадрат:



Вставь пропущенные числа и реши примеры.



- НАЗОВИ ГЕОМЕТРИЧЕСКИЕ ФИГУРЫ
- КАКИЕ ФИГУРЫ ОТНОСЯТСЯ К МНОГОУГОЛЬНИКАМ? СКОЛЬКО ЗДЕСЬ МНОГОУГОЛЬНИКОВ?
- ЧЕМ ОТЛИЧАЮТСЯ КРУГ И ОВАЛ? ЧЕМ ОНИ ПОХОЖИ?



Раскрась пятый по счету гриб.



Раскрась седьмую по счету грушу.



Раскрась третий по счету зонтик.



Раскрась шестую по счету вазу.



Раскрась четвёртую по счету улитку.

